

HALF YEARLY EXAMINATION

Invigilator's Sign:_____ Examiner's Sign:_____

=====

Page 1 of 10

As soon as the cocks crow aloud,
The new dawn arrives.
It's time to jump out of bed
And get busy with the day's work.

1. Choose the correct answer.

2

- a) The sun sets in the _____.
i) east ii) west iii) north iv) south
- b) The moon changes its shape every _____.
i) day ii) week iii) fortnight iv) month
- c) The cocks' _____ at the dawn of the day.
i) chirp ii) crow iii) hoot iv) caw
- d) The moon looks _____.
i) round and white ii) round and yellow iii) round and blue

2. Fill in the blanks.

2

- a) The moon is compared to a _____ shining at night.
- b) When the whole world sleeps, the stars _____ in the sky.
- c) The opposite of dusk is _____.
- d) The present tense for shone is _____.

3. Answer the following.

2

- a) What does the sun give us?

- b) Pick out rhyming words for the following from the poem.

lead _____ die _____ light _____ rest _____

C. Read the passage carefully and answer the questions.

Alice stood up and saw a small door about fifteen inches high. It was too small for her to go through. She saw a glass table with a golden key on it. She tried the little key in the lock and to her delight it fitted. Alice opened the door and looked into the loveliest garden she had ever seen! She longed to be among those beds of bright flowers and cool fountains!

Do as directed.

2

- a) The door was _____ high. (Fill in the gap)
- b) Alice opened the door with a _____. (Fill in the gap)
- c) The present tense of the word “go” from the passage is _____.
- d) Alice was too big to go through the door into the garden. _____.
(True / False)

- e) What did Alice see in the loveliest garden? **1**

- f) Rearrange the letters and make words **1**

a) oldneg _____

b) naouftni _____

- g) Write any two describing words from the passage **1**

- h) The other meaning of *happy* from the passage is _____ **1**

TEXTUAL QUESTIONS: (10 MARKS)

A. Answer the following questions.

4

1. Why did Shetty the magician grant four wishes to the little Fir tree?

2. Why is a nose important for us?

3. What did Nasruddin boast about himself?

4. Where does the poet ask us to run?

B. Answer the following in one word.

2

1. Loud sound made while sleeping: _____
2. Laugh in a nervous and silly way: _____
3. Shooting with bows and arrows: _____
4. Eagerness to know something: _____

C. Number the following sentences in the correct sequence. 3

1. On the next day, the big bright sun woke her up. ()
2. One day, Neha's alarm clock was broken and did not ring up at six o'clock. ()
3. And the following day, Neha's mother woke her up. ()
4. Finally, Neha herself woke up because there is a clock inside us that tells us when to eat, when to sleep and when to wake up. ()
5. Neha continued to sleep on but the chirpy birds came to her window-sill and woke her up. ()
6. Neha's alarm clock wakes her up at six o'clock in the morning every day. ()

D. Write the names of four games in which you have to run. 1

CREATIVE WRITING: (10 Marks)

A. Match the following with 'but' or 'and'. Rewrite the sentences in the space given below. 3

- | | |
|--|-------------------------------------|
| 1. Helen lived after her illness. | a) She was very intelligent. |
| 2. Alice loved to listen to the stories. | b) He plays football. |
| 3. Nasruddin shot an arrow.. | c) She could not hear or see. |
| 4. Helen could not see or hear. | d) She loved to read the stories. . |
| 5. Raju plays cricket. | e) She blessed me. |
| 6. 3. I helped the old lady | f) It didn't hit the target. |

B. Using the clues given below, write a paragraph about Virat Kohli. 4

Virat Kohli – Indian cricketer – good batsman and wicket-keeper - plays for India – practices eight hours – runs two kilometers every day – eats healthy food – healthy and fit -captain of Indian Cricket team.

C. Look at the picture and write three sentences.

3



GRAMMAR: (15 MARKS)

A. Choose the correct answer.

3

- a) I _____ with my _____ hand. (right / write)
- b) He _____ sick yesterday. He is well today. (am / is / are / was / were)
- c) Rose is _____ than her lily. (pretty / prettier / prettiest)
- d) The birds were _____ happily. (rustling / buzzing / chirping)
- e) My brother _____ go to school on foot. He goes to school by bus.
(doesn't / don't)

B. Do as directed.

6

- a) The monkeys are swinging on the branches.
(Change the sentence to singular.)

- b) A thief comes at night and steals all the jewellery from her house.
(Rewrite the sentence changing the underlined words into their **past tense**).

- c) Drinking pure water keeps our body healthy.
(Rewrite the sentence by adding – **un / dis / im / in** to the underlined words.)

- d) **every+ where** = _____. (Write the compound word)
- e) We shall not repeat the mistakes in the next exam. (Rewrite the sentence changing the underlined words into their **contraction**)

- f) I go for learning computers _____ I am free.
(whatever / whichever / whenever)

C. Punctuate the following. **2**

ravi azad and madhu went to agra to see the tajmahal

D. Rearrange the word to make a question **1**

breakfast / why / is / eating / he / not / his

E. The old man is healthy and active. **1**

(Rewrite the sentence changing the underlined words to their **opposites**.)

F. Make meaningful sentences from these jumbled words. **2**

1. hurry / is / in / a / why / he / ?

2. we / be / happy / should / with / we / have / what.

VOCABULARY: (10 MARKS)

A. Make meaningful sentences with **2**

1. reward

2. mutter

B. Rewrite the following sentences correcting the mistakes **3**

a) Alice saw a red rabbit while listening to her brother reading a story.

b) Nasruddin mentioned the chief-guard's name after missing the first shot.

c) The earth takes rest when the day is over.

C. Fill in the grid with the words given below.

3

[bat and ball /eleven/ball / football /two to four / indoor/outdoor /ground /racket]

Name of the game	What you play with	Where you play with	Number of players
FOOTBALL			
LAWN TENNIS			

D. Write the right words for the following from the puzzle.

2

1. Hair grown on the mouth of a cat or rat

2. Talking informally

3. Not able to hear

4. A person who is skilled in performing magic

M	O	R	N	I	N	G	E	W	E
A	F	T	E	R	N	O	T	H	A
G	O	D	O	I	N	G	S	I	T
I	R	E	P	E	A	T	S	S	T
C	H	A	T	T	I	N	G	K	L
I	E	F	I	S	H	E	S	E	I
A	A	P	P	L	E	S	B	R	L
N	R	O	Y	A	L	A	E	S	Y
N	S	O	R	R	Y	Y	D	S	H

SPELLINGS: (10 MARKS)

A. Put the letters in the right order to make meaningful word **2**

1. p p a s i d r e a _____

2. e r e a f t u s _____

B. Complete the table. **2**

grow	grew	
speak		spoken

C. Underline the silent letters **2**

hour knowledge wrap doubt

D. Write the antonyms for the words given below by adding im / dis / un **2**

important _____ satisfy _____

comfortable _____ Pure _____

E. Fill up with ee or ea in the missing place **2**

p l _ _ se f _ _ t k _ _ n t _ _ c h

HANDWRITING: (5 MARKS)

Rewrite the given paragraph neatly **5**

Everything has to be done in the proper time. The maxim involves two factors; choosing the most suitable time and acting promptly to win an advantage. While the iron is in the furnace, and only when it is heated to a particular temperature, it can be beaten into the required shape. The right moment has to be chosen to hammer the iron.

ATOMIC ENERGY CENTRAL SCHOOL (M) ASWAPURAM

PRIMARY WING: 2019 - 2020

HALF YEARLY EXAMINATION

Class: 4 / Sec.: _____

Subject: EVS

Marks Obtained:

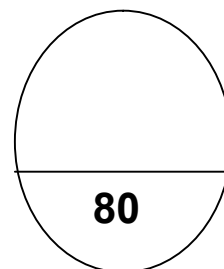
Date: _____

Time: 3 hours

Max. Marks : _____

Name: _____ Roll No

Invigilator's Sign: _____ Examiner's Sign: _____



I. Put a ✓ mark for true and X for false statements.

10

1. Madgaon is situated in Telangana. ()
2. Amrita belongs to Thejavati village. ()
3. Karanam Malleshwari is a weight lifter. ()
4. Dogs flap their ears to keep themselves cool. ()
5. When the snow is frozen, our feet sink into it. ()
6. Animals who have hair on their body lay eggs. ()
7. The ticket checker in the train checks our tickets. ()
8. Bridges are used to go across some water bodies. ()
9. Tsering's father got promoted and had to move out. ()
10. Madhubani paintings are made by using chemicals. ()

II. Fill in the blanks with the correct word from the bracket.

10

1. The _____ tree is found mainly in desert areas. (Keekar/ Khejadi)
2. A duck has _____ on its skin. (feathers / hair)
3. Heera was a _____ coach. (kabaddi / karate)
4. River water gets contaminated in _____. (winter / rainy)
5. Every beehive has one _____ bee that lays eggs. (queen /worker)
6. Bullock carts are used in _____ areas. (plain / rocky)
7. Omana travelled with her father, mother and _____(Geetha / Unni)
8. _____ elephant lives in the herd till it is 14 to 15 yrs.(male / female)
9. _____ 's family was in great excitement, because she has a new baby sister born recently. (Nimmi / Nazli)
10. The _____ district in Uttar Pradesh is famous for ltr .
(Kannauj / shimla)

III. Circle the odd one out.**6**

- | | | | |
|------------|-----------|----------|------------|
| 1. jasmine | rose | sahjan | banana |
| 2. Marathi | Gujarati | Goan | Punjabi |
| 3. cement | dung | brick | sand |
| 4. chess | kabaddi | football | basketball |
| 5. bus | ferry | car | van |
| 6. ants | honeybees | spiders | termites |

IV. Match the following**1. Places with the States****5**

Kottayam	*	*	Bihar
Valsad	*	*	Rajasthan
Madhubani	*	*	Gujarat
Belvanika	*	*	Kerala
Jodhpur	*	*	Karnataka

2. Mode of travel**5**

Trolley	*	*	Rajasthan
Camel cart	*	*	Assam
Jugad	*	*	Ladakh
Bamboo bridge	*	*	Kerala
Vallam	*	*	Gujarat

V. Complete the sentences.**5**

- Khejadli village got its name because of _____

- Pulley is used to move trolleys _____

3. Worker bees make the _____

4. The elders said that _____

5. While playing kabaddi, good coordination is required between _____

VI. Write the names for the following.

5

1. Things that do not dissolve in water

2. Animals which have hair on their body

3. Flowers used to dye the colours on cloth

4. Persons who work in a railway station

5. Animals which live in groups

VII. Answer the following questions.

10

1. Why did Chetandas family move from Pakistan to India?

2. How did the “*Valley of Flowers*” get its name?

3. What is the game of Kabaddi like ?

4. Write any two things that you can know from a railway ticket?

5. Why do people hunt animals and birds?

VIII. Give reasons for the following


4

1. Why do elephants flap their ears frequently?

2. The train made a different sound like *khud....khud...* when it crossed the river. Why?

IX. Draw a honey bee and label its parts.

2



X. Answer the following elaborately



8

1. Reason out how do rivers get polluted, after they start from hills?

2. What were the problems faced by Hera and her sisters in those days to play kabaddi like boys?

XI. Write the name of the workers with the type of work they do

5



XII. Write the names of the marked states in the India map.

5

Goa

Gujarat

Maharashtra

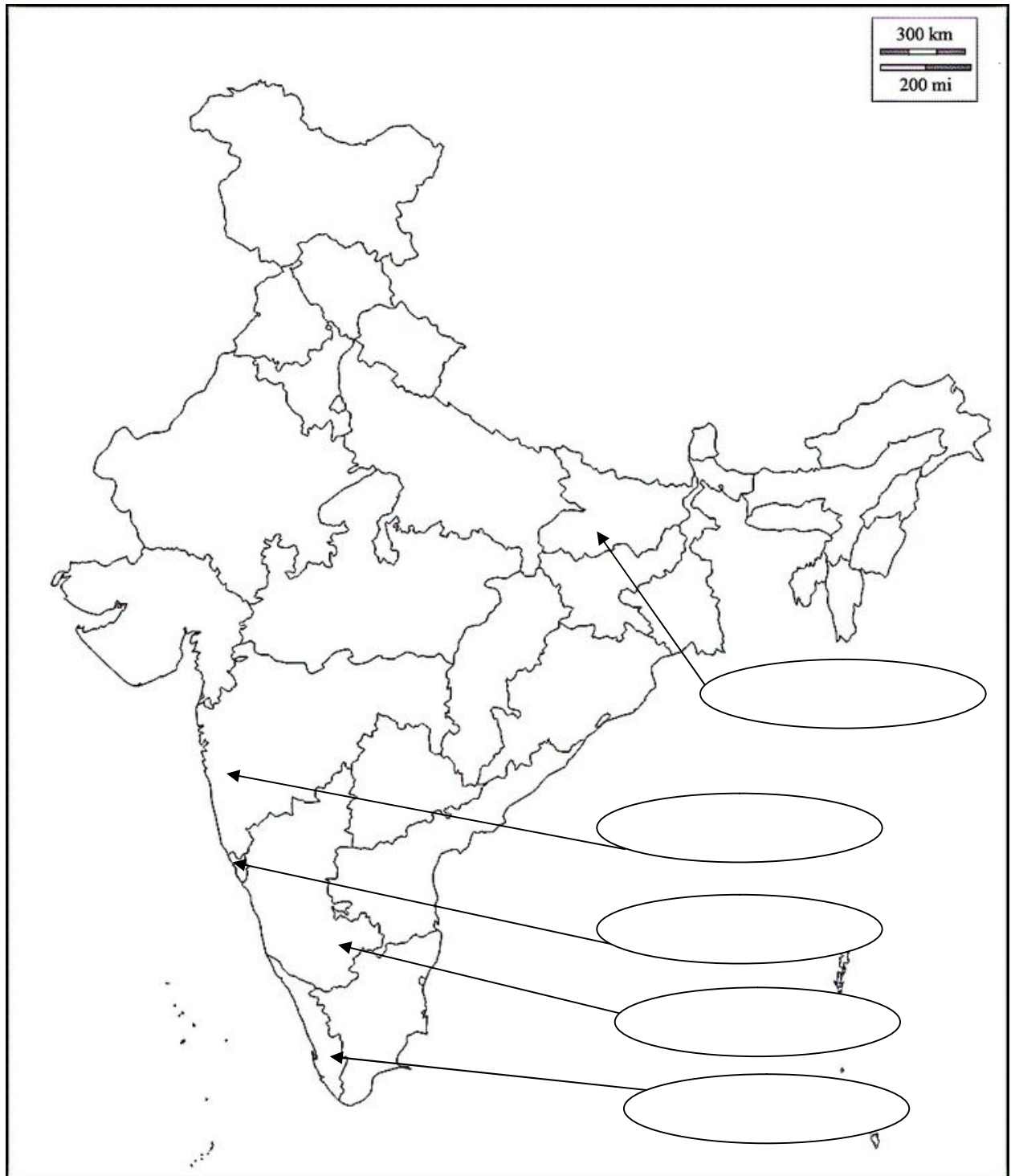
Telangana

Kerala

Karnataka

Bihar

Assam



परमाणु ऊर्जा केन्द्रीय विद्यालय अश्वापुरम

अर्द्धवार्षिक परीक्षा सितम्बर- 2019

कक्षा - चार वर्ग - ----- विषय - हिन्दी समय - तीन घंटे

नाम - ----- अनुक्रमांक - ----- पूर्णांक 80

निरीक्षक के हस्ताक्षर- ----- परीक्षक के हस्ताक्षर- -----

प्रश्न-1- नीचे लिखे अपठित गद्यांश को पढ़कर पूछे गए प्रश्नों के उत्तर लिखो।

जीवित रहने के लिए हवा और पानी के बाद हमें भोजन चाहिए। हवा और पानी ईश्वर की कृपा से मिल जाता है। पर भोजन के लिए हमें परिश्रम करना पड़ता है। स्वस्थ रहने के लिए हमारा भोजन संतुलित होना चाहिए। पोषक तत्व भी होना चाहिए। दाल और रोटी के अलावा हरी सब्जी भी चाहिए। शाकाहारी भोजन में दूध, दही और फल अधिक मात्रा में होना चाहिए। शरीर की वृद्धि के लिए दूध बहुत आवश्यक है, क्योंकि दूध अपने में पूर्ण भोजन है। दूध अमृत के समान है। प्रतिदिन सब्जियाँ और फल खाने से शरीर को अधिक शक्ति मिलती है। कहा जाता है जैसा खाए अन्न वैसा होवे मन।

क- जीवित रहने के लिए हमें क्या - क्या चाहिए ? 1

ख- ईश्वर की कृपा से हमें क्या - क्या मिल जाता है ? 1

ग- हमें भोजन क्यों चाहिए ? 1

घ- भोजन के लिए हमें क्या करना पड़ता है ? 1

ङ- शरीर की वृद्धि के लिए क्या आवश्यक है ? 1

च- पूर्ण भोजन किसे कहा जाता है ? 1

छ- क्या खाने से शरीर को अधिक शक्ति मिलती है ? 1

ज- शाकाहारी भोजन में क्या चाहिए ? 1

झ- दाल और रोटी के अलावा और हमें क्या चाहिए ? 1

ञ- दूध किसके समान है ? 1

प्रश्न-2- नीचे लिखे पठित गद्यांश को पढ़कर पूछे गए प्रश्नों के उत्तर लिखो।

गर्मी की छुट्टियाँ थीं। दोपहर के समय दिनेश घर में बैठा कोई कहानी पढ़ रहा था। तभी पेड़ के पत्तों को हिलाती हुई कोई वस्तु धम से घर के पीछे वाले बगीचे में गिरी। दिनेश आवाज़ से पहचान गया कि वह वस्तु क्या हो सकती है। वह एकदम से उठकर बरामदे की चिक सरका कर बगीचे की ओर भागा। अरे अरे,बेटा कहाँ जा रहा है बाहर लू चल रही है। दिनेश की माँ मशीन चलाते - चलाते एकदम ज़ोर से बोली। परंतु दिनेश रुका नहीं। उसने पैरों में चप्पल भी

नहीं पहनी। जून का महीना था। धरती तवे की तरह तप रही थी। पर दिनेश को पैरों के जलने की भी चिंता नहीं थी। वह जहाँ से आवाज़ आई थी, उसी ओर भाग चला।

क- किसकी छुट्टियाँ थीं ? 1

ख- दिनेश घर में बैठा क्या पढ़ रहा था ? 1

ग- दिनेश क्या सरका कर बगीचे की ओर भागा ? 1

घ- बाहर क्या चल रही थी ? 1

ङ- दिनेश की माँ क्या चला रही थीं ? 1

च- धरती किसकी तरह तप रही थी ? 1

छ- वाक्य पूरे करो। 1

वह जहाँ से आवाज़ आई थी , -----

ज- किसने कहा - अरे अरे , बेटा कहाँ जा रहे हो ? 1

झ- कौन - सा महीना था ? 1

ज- बहुवचन लिखो। 1

छुट्टी - -----

प्रश्न-3- कौन - कैसा ? लिखो। 4

	कैसा	कौन
उदाहरण - सूरज - सी	चमकीली	थाली
परियों - सा	-----	-----
चंदा - सा	-----	-----
गुब्बारे - सा	-----	-----
हाथी सा	-----	-----

प्रश्न-4- नीचे लिखे शब्दों की जगह और कौन-सा शब्द इस्तेमाल हो सकता है?

खाली जगह में लिखो । 3

विश्वास	-	-----	अभिमान	-	-----
संसार	-	-----	बुद्धिमान	-	-----
कोशिश	-	-----	मूर्ख	-	-----

प्रश्न-5- नीचे लिखे अधूरे शब्दों को पूरा करो। 2

ज़ि ----- तू ----- म ----- शै -----

प्रश्न-6- नीचे लिखे शब्दों का वाक्यों में इस्तेमाल करो।

3

कलई खुलना - -----

नाक - भौंह सिकोड़ना - -----

प्रश्न-7- लिखो , कौन - कौन सी सब्जियाँ बेल और पौधे पर लगती हैं ? 4

बेल

पौधा

प्रश्न-8- सरकंडे से क्या - क्या बनता है?

2

प्रश्न-9- नीचे लिखे शब्दों को वर्णमाला क्रम के अनुसार लिखो।

3

बनाओ टटोलो आओ लहराओ खोलो छाया है

प्रश्न-10- जिस इमारत में तीन मंज़िलें हों , उसे तिमंज़िली इमारत कहते हैं।

इन्हें क्या कहेंगे ? लिखो।

2

• जिस झंडे में तीन रंग हों - -----

• जिस मकान में दो मंज़िलें हों - -----

- जिस जगह पर चार राहें मिलती हों - -----
- जिस स्कूटर में दो पहिए हों - -----

प्रश्न-11- पापा के पापा को दादा कहते हैं । इन्हें तुम अपने घर में क्या कहकर बुलाओगे ? 4

- माँ की बहन - -----
- माँ की माँ - -----
- पापा की बहन - -----
- पापा के छोटे भाई - -----
- पापा की माँ - -----
- बहन के पति - -----
- माँ के पापा - -----
- माँ के भाई - -----

प्रश्न-12- नीचे लिखे शब्दों का वाक्यों में प्रयोग करो। 4

खोल - -----

खौल - -----

घूम - -----

झूम - -----

प्रश्न-13- नीचे लिखी कविता की पंक्तियों को पूरी करो । 3

नाव बनाओ , नाव बनाओ

भैया मेरे , -----

-----, ----- है ,

घिर - घिर कर बादल छाया है ।

प्रश्न-14- नीचे लिखे शब्दों को वर्णमाला क्रम के अनुसार लिखो। 3

बनाओ टटोलो आओ लहराओ खोलो छाया है

प्रश्न-15- नीचे लिखे वाक्यों को पढ़ो। इन वाक्यों के आधार पर लिखो कि तुम पापा के बारे में क्या सोचते हो 1

- पापा का जवाब हमेशा अलग - अलग होता था।

ऐसा लगता है कि -----

प्रश्न-16- सचमुच शब्द का इस्तेमाल करते हुए दो वाक्य बनाओ। 3

क- -----

ख- -----

प्रश्न-17- नीचे दिए गए मुहावरों में से किसी एक का चित्र बनाओ। 2

- दीया तले अंधेरा

- ईद का चाँद

प्रश्न-18- नीचे लिखे प्रश्नों के उत्तर लिखो।

क- साल के किन - किन महीनों में ज़्यादा बादल छाते हैं? 2

ख-अगर तुम्हारा बस चले तो तुम कौन - कौन सी इच्छाएँ पूरी करना चाहोगे? 2

ग- तुम बनठन कर कहाँ - कहाँ जाते हो ? 2

घ- दीपक बार - बार गेंद को अपनी क्यों बता रहा था ? 2

ड- अगर तुम रेल से सफ़र करोगे तो तुम्हें प्लेटफ़ार्म और रेलगाड़ी में कौन-कौन लोग नज़र आएँगे ? 2

च- जमाल साहब अपने मामूली से कपड़ों में घूमने क्यों नहीं जाना चाहते होंगे ?

2

प्रश्न-19- नीचे लिखे अनुच्छेद का सुलेख लिखो।

5

एक था राजा। राजा जी लकड़क कपड़े पहनकर यूँ तो हजारों रुपए खर्च करते रहते थे, पर दान के वक्त उनकी मुट्ठी बंद हो जाती थी। राजसभा में एक से एक नामी लोग आते रहते थे , लेकिन गरीब, दुखी, विद्वान ,सज्जन इनमें से कोई भी नहीं आता था क्योंकि वहाँ पर इनका विल्कुल सत्कार नहीं होता था।

ATOMIC ENERGY CENTRAL SCHOOL : : MANUGURU

HALF YEARLY EXAMINATION : 2019-20

Class: 4 Section: __ Subject: Mathematics Date: 16.09.2019

Roll No: ____ Name: _____ Marks Obt: _____

Invig.: _____ Exmnr: _____ Max Marks: 80

SECTION -A (20 MARKS)

I. CHOOSE THE CORRECT ANSWER AND FILL IN THE BLANKS / TICK. 6x1=6

1. The smallest 4 digit number using **7 , 2 , 8 , 5** _____

a. 8752

b. 5285

c. 2578

2. **7000 + 300 + 8 =** _____

a. 7308

b. 7038

c. 7830

1. One lakh = _____ thousands.

a. 10

b. 100

c. 1000

4. If $8 \times 7 = 56$ then, $70 \times 800 =$ _____

a. 560

b. 5600

c. 56000

5. A brick has _____ **faces** and _____ **edges**.

a. 6, 12

b. 6, 8

c. 8, 12

6. Time shown by the clock.

a. 6.45

b. 5.45

c. 9.30



II. Do as directed

(5x2= 10)

1. Express in **24- hour clock time**

a. 3.15 am : _____

b. 8.40 pm : _____

2 . Write the **place value of 6** in each number.

8647	
6959	

3.Find the number **of days from**

a. **12th** May to **16th** May → _____

b. **5th** Oct to **15th** Oct → _____

4 . Convert into metres.

a. 1 kilometre 5 metres = _____ metres .

b. 3 kilometres 250 metres=_____metres

5.Draw the following.

a. A line segment AB of length 6 cm.

b. Top view of railway track.

III. Solve the following .

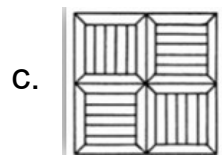
$$1 \times 4 = 4$$

1. A group of 100 children went for a picnic. Each child is to be given 1 frooti, 1 samosa and 4 biscuits. All the children take Frooti and biscuits. But 20 children do not take samosas. How many frooties, samosas and biscuits are distributed?

SECTION -B (20 MARKS)

I. Choose the correct answer and fill in the blanks/ tick. $6 \times 1 = 6$

1. Tick the tile pattern that has a mirror half.



2. $750 \text{ ml} + \underline{\hspace{2cm}} \text{ ml} = \text{one litre.}$

a. 500 ml

b. 100 ml

c. 250 ml


3. Which of the following is very close to $2 \frac{1}{2}$ metres?

a. 180 cm

b. 248 cm

c. 310 cm

4. A drainage pipe looks like a circle when you view it exactly from its _____.



a. front

b. top

c. side

5. _____ is used less than 1 ml at a time.

a. cough syrup

b. Eye drops

c. Drinking water.

6. The time 'Quarter past seven' = _____

a. 6:45

b. 7:15

c. 7:45

II. Do as directed

5x2= 10

1. Write these dates in numbers.

a. 1st February 2003 = _____

b. 10th November 2012 = _____

2. On an eye drop bottle it is written as "Mfg.date:10/18"
and "Exp.date: 11/20 .

a. In which month the medicine was manufactured?

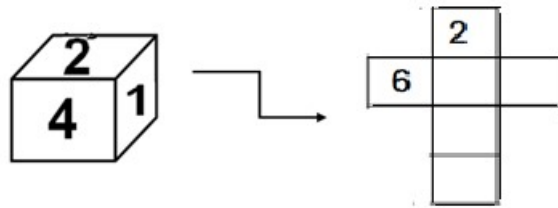
Ans: _____

b. Is it safe to use the medicine in the month of
'December - 2019'?

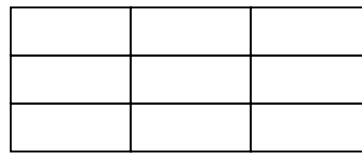
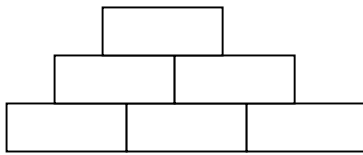
Ans: _____

3. Sudarsan is 168 cm tall. His sister is half of his height.
How tall is Sudarsan's sister?

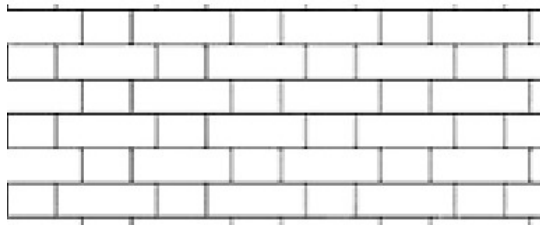
4. Raju made few dice using cardboard. When he opened a box it looked like this. Enter the missing digits in the correct places.



5. a. Tick the wall that is **stronger**

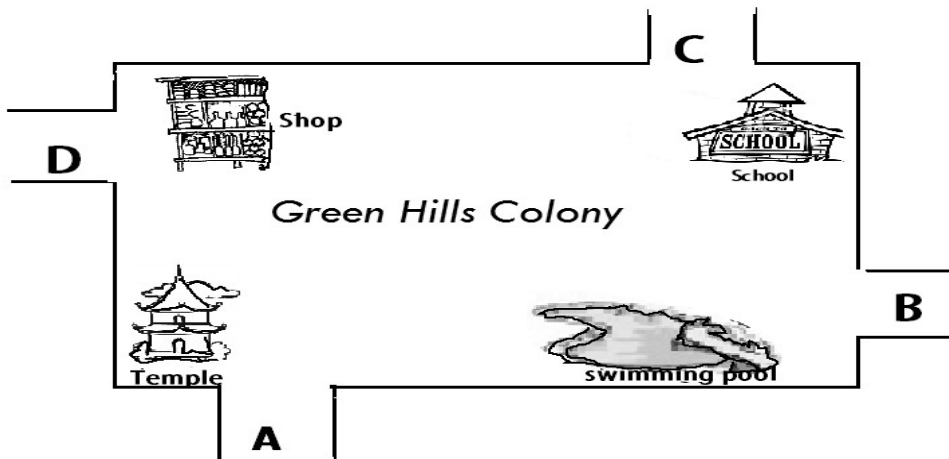


b. Draw and colour a jaali pattern in the given wall.



III. Observe the map and fill in the blanks:

1x4=4



i) If you enter through gate B, _____ would be to your right.

ii) When you have entered the colony, the temple was to your left.

You have entered the colony from gate _____.

iii) Which gate is nearest to school? **D** / **B** / **C** / **A** (put a tick

iv) _____ is far from the shop.(Swimming pool / temple)

SECTION -C (20 MARKS)

I. Choose the correct answer and fill in the blanks/ tick. 4x1=4

1. A number becomes double if it is increased by 5. The number is _____.

a.15

b.10

c.5 .

2.The number exactly between 10 and 20 is _____.

a. 12

b.10

c.15

3. Raju used 250 ml bottle for _____ times to fill a can of 2 L.

a. 4

b. 8

c .12

4.Rehman's art period is from 8:10 to 8:45 in the morning.

Duration of his Art period is _____ minutes.

a. 20

b.25

c. 35

II. Do as directed

(6x2= 12)

1.Find the difference of: 45 L 680 ML – 23 L 258 ML

2 Multiply: 45×23 using box method.

3. Calculate the Denominations and Find the total amount_.

Four 100 rupee notes = Rs.

Three 50 rupee notes =

Seven 20 rupee notes =

Nine 10 rupee notes =

Total Amount =

4. Karim bought 1kg Iron for Rs 15 but sold 1 kg Iron for Rs 20.
How much money does he earn on selling 12 kg Iron?

5. Venu's mother prepared 1 litre kheer on his birthday. She distributed it equally to 5 of his friends. How much kheer did each one get?

6. Add up to 1 litre.

$$\boxed{1 \text{ LITRE}} = 250 \text{ ml} + \underline{\hspace{2cm}} \text{ ml}$$

$$\boxed{1 \text{ LITRE}} = \underline{\hspace{2cm}} \text{ ml} + \underline{\hspace{2cm}} \text{ ml} + 100 \text{ ml}$$

III. Solve the following .

$$1 \times 4 = 4$$

1. Sravya has to take two injections a day for a week.

If one injection gives 5ml of medicine to her,

i. How much of medicine will she need for one day?

Ans:

ii. How much medicine in all for the whole week?

SECTION -D (20 MARKS)

I. Choose the correct answer and fill in the blanks/ tick. $4 \times 1 = 4$

1. The pairs of numbers which when added makes more than 500.

a. 152 and 241 b. 191 and 292 c. 320 and 184

2. Ten rounds of a 300 metre track = km

a. 3km b. 30km c. 10km

3. Raji gave 3 toffees each to 4 of her friends. 2 toffees were left.

number toffees she had = .

a. 14 b. 12 c. 10

4. 1000 old bricks costs Rs 1200. 2000 old bricks costs Rs _____

a. Rs 2000

b. Rs 2400

c. Rs 2200

II. Do as directed

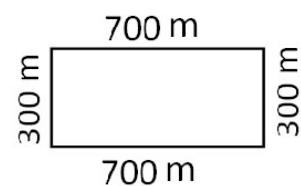
(6x2= 12)

1. Sriram took a loan of Rs 800 from a bank for 6 months. If he pays back Rs 150 every month to the bank(for 6 months) .How much more amount would he pay to the bank?

2. A milk booth sold 2436 milk packets on Monday and 3104 milk packets on Tuesday. Find the total number of packets sold on both the days.

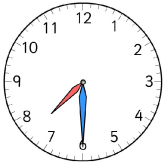

3. A toy train has 164 seats. Find the number of seats in 7 such trains.



4. Sriram runs two rounds around the park daily. Find the distance covered by him.



5. If Anirudh could jump 24 cm longer in his school sports meet, his jump would be 3 full metres. Find out the length of his jump.

6. How long will it take the minute hand to move from :

a.  to  _____

b.  to  _____

III. Solve the following .

$$1 \times 4 = 4$$

1. Jagan bought some junk from junk collectors . How much should he **pay in all** for the following items?

- a. 6 kg of plastic:
- b. 5 kg iron :
- c. 10 kg news paper:

Total:

<i>Kind of Junk</i>	<i>Rate per Kg</i>
<i>News Paper</i>	<i>Rs. 8</i>
<i>Plastic</i>	<i>Rs. 15</i>
<i>Iron</i>	<i>Rs. 40</i>
<i>Glass bottles</i>	<i>Rs. 20</i>

ATOMIC ENERGY CENTRAL SCHOOL: MANUGURU

Term: 1 Test

Session: 2019-20

Class: 4 Section: ____ Subject: TELUGU Date: ____ Marks Obt: ____

Roll No: ____ Name: ____ Invig. ____ Exmnr: ____

Time: 3 Hours

Max. Marks: 80 Marks

I. క్రింది పదాలకు సరైన అర్థాన్ని గుర్తించి రాయండి:

10 మార్కులు

1. నింగి = _____ (ఆకాశం, భూమి)
2. జీవం = _____ (పాలు, ప్రాణం)
3. ఉపకారం = _____ (చెడు, మంచి)
4. తరుణం = _____ (సంఘం, సమయం)
5. వ్యాధులు = _____ (రకాలు, రోగాలు)
6. ఘనుడు = _____ (చిన్నవాడు, గొప్పవాడు)
7. కలిమి = _____ (సంపద, సాయం)
8. వడిగా = _____ (వేగముగా, వేరుగా)
9. వేల్పు = _____ (దేవుడు, ధనం)
10. తనయుడు = _____ (కొడుకు, తమ్ముడు)

II. క్రింది ప్రశ్నలకు సమాధానములు రాయండి:

5 x 2 = 10 మార్కులు

1. ప్లాస్టిక్ వస్తువులను ఎందుకు వాడకూడదో రాయండి ?

జ. _____

2. పరమానందయ్య గారి శిష్యులు వాగును ఎట్లా దాటారు ?

జ. _____

3. వట్టి గొప్పలు చెప్పటం అంటే ఏమిటి ?

జ. _____

4.తెలంగాణ రాష్ట్రం దేనికి ప్రసిద్ధి ?

జ. _____

5. గణేశున్ని “వినాయకుడు” అని ఎందుకు అంటారు ?

జ. _____

III. ఇచ్చిన ఆధారంతో పదాలు రాయండి :

5 మార్కులు

1. నీరు : _____ లం

6. వరిపండేది : _____ లం

2. పండు : _____ లం

7. పెన్ను : _____ లం

3. జాగా : _____ లం

8. తోక : _____ లం

4. సమయం : _____ లం

9. నాగలి : _____ లం

5. రంధ్రం : _____ లం

10. శక్తి : _____ లం

IV. క్రింది గేయ పంక్తులు సరిచేసి రాయండి :

4 మార్కులు

1. మతములన్నీ మెలగవలెనోయి జ. _____

అన్నదమ్ముల వలెను జాతులు

దేశస్థులంతా నడవవలెనోయి

చెట్టపట్టాల్ పట్టుకొని

V. క్రింది పద్యమును పూరించండి :

4 మార్కులు

1. ఉపకారికి _____

_____ సుమతీ.

VI. క్రింది వాక్యాలు చదువండి. విశేషణ పదాలు గుర్తించి రాయండి:

5 మార్కులు

ఉదా: పాలపిట్ట అందంగా ఉన్నది.

జ. అందంగా

1. రామాపురం బడిలో అందమైన తోట ఉన్నది

జ. _____

2. కపిల్ దేవ్ వేగంగా బొలింగ్ చేసేవాడు. జ. _____
3. వేపకాయ చేదుగా ఉంటుంది. జ. _____
4. మల్లెపూలు మంచి వాసన ఇస్తాయి. జ. _____
5. రామప్ప చెరువు చాలా పెద్దగా ఉన్నది. జ. _____

VII. క్రింది ఏకవచన పదాలకు బహువచన పదాలను రాయండి: 6 మార్కులు

1. చెరువు _____ 2. పాము _____ 3. శిష్యుడు _____
4. వాగు _____ 5. దేవత _____ 6. గురువు _____

VIII. క్రింది ఖాళీలను సరైన పదాలతో పూరించండి : 10 మార్కులు

1. ప్లాస్టిక్ వస్తువులను పారేస్తే అవి _____ లో కలిసి పోవు. (మట్టి, చెట్టు)
2. పర్యటించడానికి మరో పేరు _____ (పండుగ, పందిరి)
3. ప్రజలకు ఆ రోజు కొత్త _____ వచ్చాయి. (పులుపులు, పుస్తకాలు)
4. మనం కాగితాన్ని పొదుపుగా వాడుకుంటే అనవసరంగా _____ ఎక్కువ నరకాల్సిన పని ఉండదు. (చెట్లను, చెరువును)
5. కుమారస్వామి వాహనం _____. (నెమలి, పావురం)
6. పరమానందయ్య గారికి _____ మంది శిష్యులు. (పన్నెండు, పది)
7. ఆకాశంలోని ఇంద్ర ధనుస్సులో _____ వర్ణములు ఉన్నాయి. (నాలుగు, ఏడు)
8. శిష్యులు చేసిన తప్పును _____ గుర్తించారు. (గురువు, రాజు)
9. ప్లాస్టిక్ తో మనకు ఎంతో _____ ఉంది. (లాభం, నష్టం)
10. వినాయకుని వాహనం _____. (ఏనుగు, ఎలుక)

IX. క్రింది ప్రశ్నలకు జవాబులు రాయండి: 2 x 3 = 6 మార్కులు

1. పరమానందయ్య శిష్యుల గురించి నాలుగు వాక్యాలు రాయండి ?

- జ. _____
- _____
- _____
- _____

2. వినాయకుని విగ్రహాలను మట్టితోనే ఎందుకు చేయాలి ?

జ. _____

X. క్రింది వాక్యాలను చదివి, క్రియా పదాలను గుర్తించి రాయండి : 5 మార్కులు

ఉదా: పిల్లలు ఆటలు ఆడుతున్నారు జ. ఆడుతున్నారు.

- | | |
|------------------------------|----------|
| 1. తాత గుడికి వెళ్ళాడు. | జ. _____ |
| 2. నాన్న పొలం నుండి వచ్చాడు | జ. _____ |
| 3. అమ్మ వంట చేయు చున్నది | జ. _____ |
| 4. తమ్ముడు పాలు తాగుతున్నాడు | జ. _____ |
| 5. రాధ పుస్తకం చదువుతున్నది | జ. _____ |

XI. క్రింది పదాలను చదివి, వేరుగా ఉన్న పదాలను గుర్తించి రాయండి: 4 మార్కులు

ఉదా: వంకాయ, సొరకాయ, దోసకాయ, జామపండు జ. జామపండు

- | | |
|--|-------|
| 1. దోమ, చీమ, చిలుక, ఈగ . | _____ |
| 2. రాము, సీత, గీత, కావ్య | _____ |
| 3. తామరపూవు, చామంతిపూవు, పాలకూర, బంతిపూవు. | _____ |
| 4. అన్నం, పెరుగు, పాలు, పలక. | _____ |

XII. క్రింది పదాలకు అర్థాలను రాసి, సొంత వాక్యములను రాయండి. 4 మార్కులు

1. పాఠశాల = _____

వాక్యము: _____

2. సేద్యం = _____

వాక్యము : _____

XIII. ఈ క్రింది విషయమును చదివి, ప్రశ్నలకు జవాబులను రాయండి:

4 మార్కులు

రాజు చాలా తెలివైనవాడు. తన పనులను చక్కగా పద్ధతి ప్రకారం చేసుకొనేవాడు. తరగతిలో అందరితో కలిసిమెలిసి ఉండేవాడు. వాళ్ళ నాన్న ఇచ్చిన డబ్బులను అనవసరంగా ఖర్చుచేయక, వాటిని దాచిపెట్టుకొనేవాడు. ఒక రోజు రాజు బడికి పోతుంటే దారి పక్కన ఒక ముసలమ్మ కనిపించింది. తరువాత రెండు రోజులు కూడ దారిలో ఆ ముసలమ్మ అట్లానే ఉన్నది. ఆమెను అట్లా చూస్తే రాజుకు జాలి వేసి “అవ్వా! ఏమైన తిన్నవా” అని అడిగాడు. నీరసంగా ఉన్న అవ్వ “లేదు కొడుకా! అని అడ్డంగా తలూపింది. వెంటనే రాజు ఇంటికి ఉరికి, నాన్న ఇచ్చిన డబ్బులతో దుకాణంలో కారాబూంది కొనితెచ్చి, ఆ పొట్లాన్ని అవ్వచేతికిచ్చాడు. అవ్వ దానిని ఎంతో ఆత్మతగా తీసుకొని సంతోషంగా రాజు వంక చూసి “నీ కడుపు సల్లగుండ” అన్నది.

ప్రశ్నలు:

1. రాజు తరగతిలో ఎట్లా ఉండేవాడు ?

జ. _____

2. రాజు బడికి పోతుంటే ఎవరు కనిపించారు?

జ. _____

3. రాజు ఇంటికి ఎందుకు ఉరికాడు ?

జ. _____

4. కారాబూంది తీసుకొని ముసలమ్మ రాజుతో ఏమన్నది ?

జ. _____

XIV. ఈ క్రింది విషయమును చదివి మంచి దస్తూరితో రాయండి:

3 మార్కులు

సమస్త జీవకోటికి మూలాధారం నీరు. ప్రపంచ నాగరికతలకు మూలం నీరు. నీటికి ఆధారమైన నదిని నేను. నా పేరు గోదావరి. మహారాష్ట్రలోని త్రయంబకం దగ్గర నా జన్మస్థానం. హిమాలయాల్లో పుట్టిన గంగానది లెక్కనే ఎక్కువ దూరం ప్రయాణం చేసి దక్షిణ భారతదేశ నదిని. నన్ను అందరు “దక్షిణ గంగ” అని పిలుస్తారు.

జ. _____

_____.

Page.....6/6.